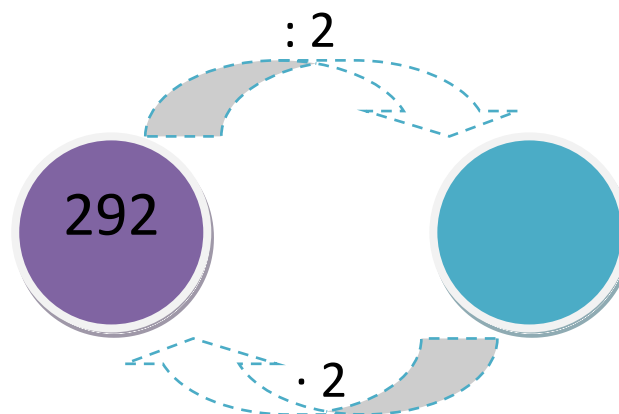
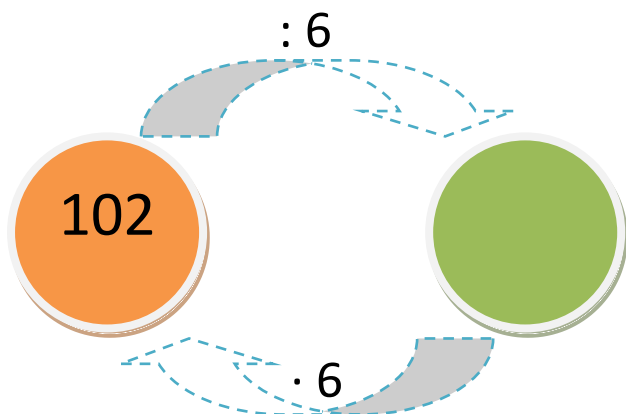
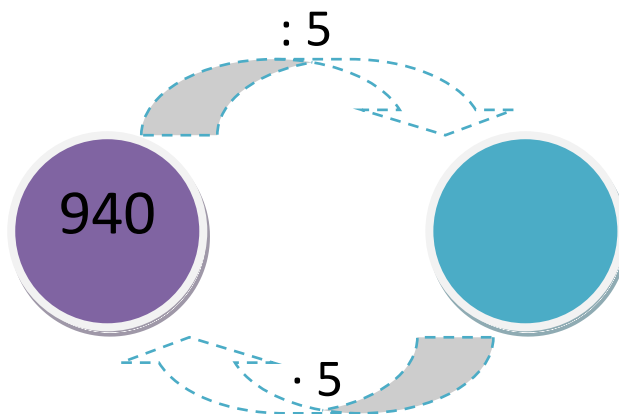
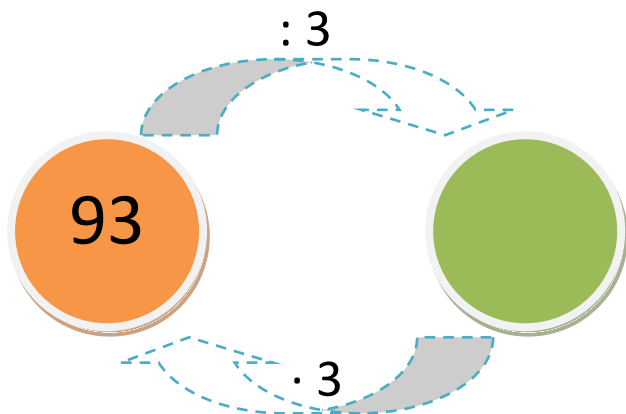


# Zadania



1. Wykonaj dzielenie i sprawdź poprawność jego wykonania



2. Ogrodnik przyszykował 8 bukietów kwiatów złożonych z róż i tulipanów. W każdym bukiecie była jednakowa liczba kwiatów.

**Ile kwiatów znajdowało się w każdym z bukietów, jeżeli wszystkich było 72.**



3. Ojciec waży 87 kg, Piotruś jest 3 razy lżejszy od ojca, a mama jest 2 razy cięższa od Piotrusia.

**Ile waży Piotr, a ile jego mama?**